

OFFICE OF.....

WEEKLY QUIZ - 40

CLASS -5

SUBJECT - MATHS

DATE :- 03.07.2021

सौजन्य से :- राजकीय उच्च प्राथमिक विद्यालय, बीरवाड़ा, ब्लॉक केकड़ी जिला अजमेर

1. अंकों 6, 0, 1, 3, 8 से 4-अंकों की कौन सी सबसे छोटी संख्या बनायी जा सकती है? (नोट: अंकों को दोहराया जा सकता है।)

1 ☐ 1036

2 ☐ 1000

3 ☐ 0136

4 ☐ 1003

2. अंकों 6, 0, 1, 3, 9 से 4-अंकों की कौन सी सबसे बड़ी संख्या बनायी जा सकती है? (नोट: अंकों को दोहराया जा सकता है।)

1 ☐ 9999

2 ☐ 10000

3 ☐ 1000

4 ☐ 998

3. अंकों 9, 2 और 8 का प्रयोग कर 4-अंकों की सबसे छोटी संख्या बनाइये। (नोट: अंकों को दोहराया जा सकता है।)

1 ☐ 2889

2 ☐ 2222

3 ☐ 2228

4 ☐ 2298

4. अंकों 3, 5, 4 और 7 का प्रयोग कर (अंकों को दोहराए बिना) 4-अंकों की सबसे छोटी संख्या बनाइये।

1 ☐ 3547

2 ☐ 7453

3 ☐ 3457

4 ☐ 7543

5. अंकों 4, 8, 1 और 5 (अंकों को बिना दोहराये) का प्रयोग कर 4-अंकों की सबसे छोटी सम संख्या बनाइये।

1 ☐ 1548

2 ☐ 1584

3 ☐ 1485

4 ☐ 1458

6. अंकों 4, 9 और 5 का प्रयोग कर 4-अंकों की सबसे छोटी विषम संख्या बनाइये। (नोट: अंकों को दोहराया जा सकता है।)

1 ☐ 2333

2 ☐ 4433

3 ☐ 4445

4 ☐ 5545

7. अंको 4, 3, 7 और 5 का प्रयोग कर (अंकों को दोहराए बिना), 4-अंकों की सबसे छोटी विषम संख्या बनाइये।

1 ☐ 3457

2 ☐ 4355

3 ☐ 3344

4 ☐ 2233

8. अंको 2, 6, 7 और 5 का प्रयोग कर सबसे बड़ी और सबसे छोटी संभव संख्या बनाइये। दोनों संख्याओं के बीच का अंतर ज्ञात कीजिये। (नोट: प्रत्येक अंक को केवल एक ही बार प्रयोग किया जा सकता है।)

1 ☐ 7652

2 ☐ 5095

3 ☐ 2567

4 ☐ 5085

OFFICE OF.....

WEEKLY QUIZ - 40

CLASS -5

SUBJECT - ENGLISH

DATE :- 03.07.2021

सौजन्य से :- राजकीय उच्च प्राथमिक विद्यालय, बीरवाड़ा, ब्लॉक केकड़ी जिला अजमेर

1. Patrick never did his homework because:

1 ☐ he loved to watch T.V.

2 ☐ he enjoyed parties

3 ☐ he hated homework

4 ☐ he was lazy

2. Ignoramus is a person who:

1 ☐ is popular

2 ☐ lacks education

3 ☐ knows literature

4 ☐ is arrogant

3. 'Little man's face wrinkled like a dish-cloth' shows his emotions:

1 ☐ of anger

2 ☐ of fear

3 ☐ of love

4 ☐ of hatred

4. The elf granted a wish:

1 ☐ to show its power

2 ☐ to keep his promise

3 ☐ in return for his protection

4 ☐ to make him rich against the cat

5. The elf was helpless and needed:

1 ☐ rest

2 ☐ educational help

3 ☐ practice before working

4 ☐ money

6. Finally the elf slipped out:

1 ☐ as he had become tired

2 ☐ as there was no more homework

3 ☐ as he wished to avoid Patrick

4 ☐ as his slippers pinched him

7. The writer emphasizes that:

1 ☐ parents should help their children

2 ☐ work is worship

3 ☐ students should be model kids

4 ☐ students should watch Discovery Channel

8. Patrick thought that his cat was playing with a:

1 ☐ ball

2 ☐ doll

3 ☐ basket

4 ☐ lid

WEEKLY QUIZ - 40

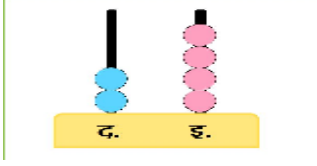
CLASS -4

SUBJECT - MATHS

DATE :- 03.07.2021

सौजन्य से :- राजकीय उच्च प्राथमिक विद्यालय, बीरवाड़ा, ब्लॉक केकड़ी जिला अजमेर

1. दिए गए अबेकस द्वारा कौन सी संख्या दर्शाई गई है?



1 ☐ 42

2 ☐ 24

3 ☐ 6

4 ☐ 26

2. संख्या 35 का संख्या नाम क्या है?

1 ☐ पैंतीस

2 ☐ तीस

3 ☐ तिरपन

4 ☐ चौंतीस

3. निम्न में से कौन सा विकल्प 28 के बराबर है?


1 ☐ 28 इकाइयाँ

2 ☐ 28 दहाइयाँ

3 ☐ 2 दहाइयाँ

4 ☐ 2 दहाइयाँ 8 दहाइयाँ

4. दिये गए चित्र में कुल कितने मेंढक हैं?



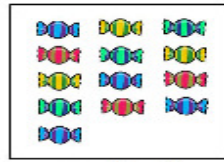
1 ☐ 30

2 ☐ 40

3 ☐ 24

4 ☐ 32

5. दिए गए चित्र में कितनी दहाइयाँ हैं?



13 टाफियाँ

1 ☐ 1

2 ☐ 10

3 ☐ 13

4 ☐ 3

6. खाली स्थान भरिए: 10 इकाइयाँ ____ के बराबर है।

1 ☐ 10 दहाइयाँ

2 ☐ 1 दहाई

7. नमन ने 18 नीली गेंदें खरीदीं। अब वह 10 गेंदों का केवल 1 समूह बना सकता है। हाँ या नहीं?




18

1 ☐ नहीं

2 ☐ हाँ

8. चित्र में दी गई कृतियों की संख्या को कौन-सा विकल्प दर्शाता है?



1 ☐ 14 दहाइयाँ

2 ☐ 2 दहाइयाँ और 6 इकाइयाँ

3 ☐ 1 इकाई और 4 दहाइयाँ

4 ☐ 1 दहाई और 4 इकाइयाँ

Email:- gups.birwara@gmail.com

WEEKLY QUIZ - 40

CLASS -4

SUBJECT - ENGLISH

DATE :- 03.07.2021

सौजन्य से :- राजकीय उच्च प्राथमिक विद्यालय, बीरवाड़ा, ब्लॉक केकड़ी जिला अजमेर

1. This is a picture of ____.




1 ☐ a banana

2 ☐ a papaya

3 ☐ an apple

4 ☐ a potato

2. A ____ lives under water.



1 ☐ camel

2 ☐ fish

3 ☐ parrot

3. Where do birds live?



1 ☐ In a nest

2 ☐ Under water

3 ☐ In a car

4. The ____ is yellow in colour.



1 ☐ ball

2 ☐ sun

3 ☐ moon

5. Seema will cut ____ on her birthday.



1 ☐ a gift

2 ☐ an apple

3 ☐ a dress

4 ☐ a cake

6. This is a picture of ____.



1 ☐ a pen

2 ☐ a pencil

3 ☐ a nib

4 ☐ a brush

7. Name the colour.



1 ☐ Red

2 ☐ Blue

3 ☐ Green

4 ☐ Yellow

8. Name this shape.



1 ☐ Circle

2 ☐ Star

3 ☐ Square

4 ☐ Triangle

Email:- gups.birwara@gmail.com

OFFICE OF.....

WEEKLY QUIZ - 40

1. फ्रांस की क्रांति कब प्रारंभ हुई?

- 1 ☐ 14 जुलाई 1852
- 2 ☐ 14 जुलाई 1783
- 3 ☐ 14 जुलाई 1789
- 4 ☐ 14 जुलाई 1785

2. फ्रांस _____ महाद्वीप में स्थित है। फ्रांस की राजधानी _____ है।

- 1 ☐ यूरोप, पेरिस
- 2 ☐ एशिया, लंदन
- 3 ☐ अफ्रीका, जांबिया
- 4 ☐ स्ट्रेलिया, न्यूयॉर्क

3. फ्रांस की उग्र जनता ने किस किले को ध्वस्त किया?

- 1 ☐ बास्तिल दुर्ग
- 2 ☐ प्रेजीडेंसी
- 3 ☐ व्हाइट हाउस
- 4 ☐ उपरोक्त में से कोई नहीं

4. फ्रांस में संविधान कब लागू हुआ ?

- 1 ☐ 1795
- 2 ☐ 1791
- 3 ☐ 1753
- 4 ☐ 1732

5. फ्रांस में राजतंत्र को समाप्त करके गणतंत्र की स्थापना कब हुई?

- 1 ☐ 1791
- 2 ☐ 1758
- 3 ☐ 1792
- 4 ☐ 1793

Email:- gups.birwara@gmail.com

OFFICE OF.....

WEEKLY QUIZ - 40

1. Read the poem and choose the closest meaning for the word DIVERGED.

two roads diverged in yellow wood, And sorry I could not travel both, And be one traveler. long I stood,
To where it bent in the undergrowth

1 ☐ rode 2 ☐ arrived 3 ☐ separated 4 ☐ floated

2. Read the poem and answer the following: Till where could the poet see the other road?

1 ☐ until the new road was visible 2 ☐ until the road bent to the bushes
3 ☐ until the road bent to the underground 4 ☐ until the poet changed his direction

3. Read the poem and choose the rhyming word from it for 'same'.

Then took the other, just as fair, And having perhaps better claim, Because it was grassy and wanted
wear; though as for that the passing there, Had worn them really about the same.

1 ☐ blame 2 ☐ claim 3 ☐ lame 4 ☐ shame

4. Read the poem and choose the closest meaning for the word CLAIM.

1 ☐ close 2 ☐ response 3 ☐ assertion 4 ☐ defense

5. Read the poem and choose the closest meaning for the word TRODDEN.

And both that morning equally lay, In leaves no step had trodden black, Oh! I kept the first for another
day!, Yet knowing how way leads on to way, I doubted if I should ever come back.

1 ☐ unknown 2 ☐ used 3 ☐ blown 4 ☐ squashed

6. Read the poem and answer the following: What do you mean by the phrase "How way leads on to way"?

1 ☐ Choice leading to the different path 2 ☐ Choice leading to correct direction
3 ☐ Choice leading to set of other choices 4 ☐ None of these

7. Read the poem and choose the closest meaning for the word SIGH.

I shall be telling this a sigh, Somewhere ages and ages hence, Two roads diverged in a wood, and I _ I
took the one less traveled by, And that has made all the difference.

1 ☐ cry of sorrow 2 ☐ cry of delight 3 ☐ sound of pain 4 ☐ sound of tiredness

8. Read the poem and answer the following: What do you mean by phrase "I took the one less travelled by"?

1 ☐ Taking the easier path 2 ☐ Taking the unknown path
3 ☐ Taking the more difficult road 4 ☐ None of these

OFFICE OF.....

WEEKLY QUIZ - 40

CLASS -6

SUBJECT - HINDI

DATE :- 03.07.2021

सौजन्य से :- राजकीय उच्च प्राथमिक विद्यालय, बीरवाड़ा, ब्लॉक केकड़ी जिला अजमेर

1 खाली स्थान भरें: हम पंछी उन्मुक्त ____ के पिंजरबद्ध न गा पाएंगे।

1 ☐ गगन

2 ☐ मगन

3 ☐ नीलगगन

4 ☐ उपर्युक्त सभी

2 खाली स्थान भरें: कनक - तीलियों से ____ पुलकित पंख टूट जाएंगे।

1 ☐ टकराकर

2 ☐ मिलकर

3 ☐ सटकर

4 ☐ बैठकर

3 खाली स्थान भरें: हम बहता जल ____ मर जाएंगे भूखे - प्यासे।

1 ☐ खाने वाले

2 ☐ पीने वाले

3 ☐ सोने वाले

4 ☐ बहने वाले

4 खाली स्थान भरें: स्वर्ण - श्रृंखला के ____ में अपनी गति उड़ान सब भूले।

1 ☐ बंधन में

2 ☐ गन में

3 ☐ चल में

4 ☐ उपर्युक्त में से कोई नहीं

5 खाली स्थान भरें: बस सपनों में देख रहे हैं तरु की फुनगी पर के ____।

1 ☐ फूले

2 ☐ झूले

3 ☐ फले

4 ☐ भूले

6 खाली स्थान भरें: ऐसे थे अरमान की उड़ते ____ नभ की सीमा पाने।

1 ☐ पीले

2 ☐ नीले

3 ☐ काले

4 ☐ भूरे

OFFICE OF.....

WEEKLY QUIZ - 40

CLASS -6

SUBJECT - SST

DATE :- 03.07.2021

सौजन्य से :- राजकीय उच्च प्राथमिक विद्यालय, बीरवाड़ा, ब्लॉक केकड़ी जिला अजमेर

1. पृथ्वी की सबसे ऊपरी परत है:

1 ☐ पर्पटी

2 ☐ क्रोड

3 ☐ मेंटल

4 ☐ निफे

2. : पृथ्वी की त्रिज्या है:

1 ☐ 6000 किमी

2 ☐ 6371 किमी

3 ☐ 3500 किमी

4 ☐ 2900 किमी

3. शैल कितने प्रकार की होती है?

1 ☐ 2

2 ☐ 3

3 ☐ 4

4 ☐ 5

4. ☐ ग्नेय शैल को अन्य किस नाम से जाना जाता है?

1 ☐ अवसादी शैल

2 ☐ कायांतरित शैल

3 ☐ प्राथमिक शैल

4 ☐ मेटामोरफिक शैल

5. अवसादी शैल का उदाहरण है:

1 ☐ ग्रेनाइट

2 ☐ बलु पत्थर

3 ☐ संगमरमर

4 ☐ बेसाल्ट

6. किस प्रकार की शैल में जीवाश्म पाए जाते हैं?

1 ☐ अवसादी शैल

2 ☐ ☐ ग्नेय शैल

3 ☐ कायांतरित शैल

4 ☐ क्रोड

7. पृथ्वी की सबसे भीतरी परत है:

1 ☐ पर्पटी

2 ☐ मेंटल

3 ☐ क्रोड

4 ☐ सिएल

8. विश्व की सबसे गहरी खान कहाँ स्थित है?

1 ☐ भारत

2 ☐ अमेरिका

3 ☐ दक्षिण अफ्रीका

4 ☐ ☐ स्ट्रेलिया

OFFICE OF.....

WEEKLY QUIZ - 40

CLASS -7

SUBJECT - ENGLISH

DATE :- 03.07.2021

सौजन्य से :- राजकीय उच्च प्राथमिक विद्यालय, बीरवाड़ा, ब्लॉक केकड़ी जिला अजमेर

1. Complete the sentence using the past perfect tense: "Ram ____ out for a hair cut when his sister got home."

1 ☐ gone

2 ☐ goes

3 ☐ had gone

4 ☐ has gone

2. Choose the sentence that is in the past perfect tense.

1 ☐ Nitin bought his car just before he moved to Delhi.

2 ☐ Nitin was buying his car just before he had moved to Delhi.

3 ☐ Nitin had bought his car just before he was moving to Delhi.

4 ☐ Nitin had bought his car just before he had moved to Delhi.

3. Complete the sentence using the past perfect tense: "Radha said that she _____ to this museum earlier."

1 ☐ has not been

2 ☐ had been

3 ☐ has been

4 ☐ have been

4. Complete the sentence using an appropriate phrasal verb: "Please _____ to our showroom to know more about the new laptop."

1 ☐ hold down

2 ☐ pass out

3 ☐ come down

4 ☐ call out

5. Complete the sentence using an appropriate phrasal verb: "Vineet ____ on the sugars in his diet to lose fat."

1 ☐ cuts in

2 ☐ cuts up

3 ☐ cuts off

4 ☐ cuts down

6. Complete the sentence using an appropriate phrasal verb: "Can you please _____ to the Principal?"

1 ☐ call me away

2 ☐ put me through

3 ☐ hand me over

4 ☐ hold out

7. Choose the correct order of adjectives to describe the noun: "There is a _____ elephant in the zoo."

1 ☐ gray nice round

2 ☐ round nice gray

3 ☐ nice round gray

4 ☐ nice gray round

8. Choose the correct order of adjectives to describe the noun: "Those are _____ chairs."

1 ☐ wooden brown old beautiful

2 ☐ wooden old beautiful brown

3 ☐ old beautiful brown wooden

4 ☐ beautiful old brown wooden

OFFICE OF.....

WEEKLY QUIZ - 40

CLASS -7

SUBJECT - HINDI

DATE :- 03.07.2021

सौजन्य से :- राजकीय उच्च प्राथमिक विद्यालय, बीरवाड़ा, ब्लॉक केकड़ी जिला अजमेर

- 1 'ध्वनि' कविता के रचयिता हैं:
1 ☐ रामधारी सिंह 'दिनकर' 2 ☐ सूर्यकांत त्रिपाठी 'निराला' 3 ☐ रामचंद्र तिवारी 4 ☐ प्रभुनारायण
- 2 'निद्रित कलियों' से क्या तात्पर्य है?
1 ☐ मुरझाई हुई कलिया 2 ☐ वह युवा वर्ग जो अपने कर्तव्यों के प्रति सचेत नहीं है
3 ☐ सोई हुई कलिया 4 ☐ उपरोक्त सभी
- 3 'कलिया कोमल' में किस अलंकार का प्रयोग हुआ है?
1 ☐ अनुप्रास 2 ☐ यमक 3 ☐ पुनरुक्ति 4 ☐ श्लेश
- 4 कवि खिले फूलों को कहाँ का द्वार दिखाना चाहता है?
1 ☐ विद्यालय का 2 ☐ अनन्त का 3 ☐ वेदों और पुस्तकों का 4 ☐ उपवन और बागों का
- 5 कवि पुष्प-पुष्प से क्या खींच लेना चाहता है?
1 ☐ तंद्रालस लालसा 2 ☐ पराग 3 ☐ नींद और सपने 4 ☐ मिठास
- 6 प्रत्येक पुष्प से ऽ लश दूर करने के बाद कवि क्या करेगा?
1 ☐ उसे नए जीवन के अमृत से भी सींच देगा की उसमें नया जोश ऽ ये 2 ☐ ऽ राम करेगा
3 ☐ लोगों को वेद पढ़ने के लिए प्रेरित करेगा 4 ☐ अपना प्रचार करेगा
- 7 मेरे मन में मृदुल वसंत - यह वन किसका प्रतीक रूप है?
1 ☐ प्रकृति का 2 ☐ कवि के जीवन का
3 ☐ खुश मन का 4 ☐ जीवन के अंधियारे का
- 8 कविता से जीवन के प्रति कवि के किस दृष्टिकोण का ज्ञान होता है?
1 ☐ ऽ शावादी और उत्साही 2 ☐ निराशावादी और हताश
3 ☐ प्रकृति प्रेमी 4 ☐ इनमें से कोई नहीं

OFFICE OF.....

WEEKLY QUIZ - 40

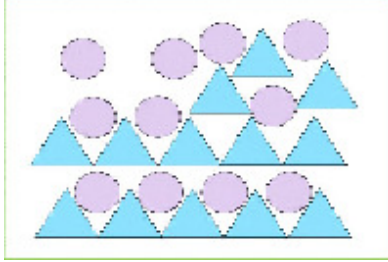
CLASS -1

SUBJECT - INTELLECTUAL DEVELOPMENT

DATE :- 03.07.2021


सौजन्य से :- राजकीय उच्च प्राथमिक विद्यालय, बीरवाड़ा, ब्लॉक केकड़ी जिला अजमेर

1. खाली स्थान भरें: दिये गए चित्र में ___ वृत्त और ___ त्रिभुज हैं।




- 1 ☐ 12, 13 2 ☐ 10, 13 3 ☐ 11, 13 4 ☐ 10, 11

2. चित्र में दी गई सभी 2-D आकृतियों को पहचानिए।




- 1 ☐ वर्ग, आयत और त्रिभुज 2 ☐ वर्ग और वृत्त
3 ☐ वृत्त, त्रिभुज और आयत 4 ☐ वर्ग, आयत और वृत्त

3. दी गई आकृति का नाम क्या है?



- 1 ☐ त्रिभुज 2 ☐ वर्ग 3 ☐ आयत 4 ☐ वृत्त

4. दिए गए चित्र में कितने वर्ग हैं?



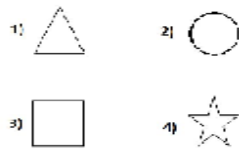
- 1 ☐ 1 2 ☐ 2 3 ☐ 5 4 ☐ 4

5. दिए गए चित्र में त्रिभुजों की कुल संख्या क्या है?



- 1 ☐ 5 2 ☐ 6 3 ☐ 3 4 ☐ 7

6. एक सिक्के का आकार चित्र में दी हुई किस आकृति से मिलता है?



- 1 ☐ 1) 2 ☐ 2) 3 ☐ 3) 4 ☐ 4)

OFFICE OF.....

WEEKLY QUIZ - 40

CLASS -1

SUBJECT - LANGUAGE DEVELOPMENT

DATE :- 03.07.2021

सौजन्य से :- राजकीय उच्च प्राथमिक विद्यालय, बीरवाड़ा, ब्लॉक केकड़ी जिला अजमेर

1. दिए गए शब्दों में से कौन सा शब्द 'क' अक्षर से शुरू नहीं होता है?



1 ☐ कमल

2 ☐ कोयला

3 ☐ खरगोश

4 ☐ कलश

2. दिये गए चित्र के नाम में किस अक्षर की ध्वनि है?

1 ☐ क

2 ☐ स

3 ☐ म

4 ☐ प

3. किस शब्द में 'प' अक्षर की ध्वनि है?

1 ☐ अपना

2 ☐ कल

3 ☐ पत्ती

4 ☐ दूध

4. 'राजमहल' में किस अक्षर की ध्वनि नहीं है?

1 ☐ ज

2 ☐ म

3 ☐ ल

4 ☐ प

5. 'म' ध्वनि वाले शब्द की पहचान कीजिए।

1 ☐ काया

2 ☐ नमन

3 ☐ गगन

4 ☐ चाँद

6. 'कल्पना' में किस अक्षर की ध्वनि नहीं है?

1 ☐ क

2 ☐ प

3 ☐ न

4 ☐ म

7. किस शब्द में 'क' और 'म' दोनों अक्षरों की ध्वनि है?

1 ☐ लकड़ी

2 ☐ मकड़ी

3 ☐ ककड़ी

4 ☐ मगर

8. किस शब्द में 'प' और 'म' दोनों अक्षरों की ध्वनि है?

1 ☐ मकान

2 ☐ चमन

3 ☐ मापना

4 ☐ हँसना

OFFICE OF.....

WEEKLY QUIZ - 40

CLASS -2

SUBJECT - ENGLISH

DATE :- 03.07.2021

सौजन्य से :- राजकीय उच्च प्राथमिक विद्यालय, बीरवाड़ा, ब्लॉक केकड़ी जिला अजमेर

1. Pick the small letter.



1 ☐ A

2 ☐ e

3 ☐ R

4 ☐ H

2. Pick the small letter shown in the picture.



1 ☐ h

2 ☐ m

3 ☐ n

4 ☐ w

3. Pick the small letter shown in the picture.



1 ☐ v

2 ☐ w

3 ☐ a

4 ☐ u

4. Are all the letters small?



1 ☐ Yes

2 ☐ No

5. Pick the small letter for 'D'.



1 ☐ a

2 ☐ b

3 ☐ c

4 ☐ d


6. Are all the letters big?



1 ☐ Yes

2 ☐ No

7. How many capital letters are there in the picture?



1 ☐ 4

2 ☐ 5

3 ☐ 6

4 ☐ 7

8. Fill in the blank.



1 ☐ e

2 ☐ l

3 ☐ a

4 ☐ u

WEEKLY QUIZ - 40

CLASS -2

SUBJECT - MATH

DATE :- 03.07.2021

सौजन्य से :- राजकीय उच्च प्राथमिक विद्यालय, बीरवाड़ा, ब्लॉक केकड़ी जिला अजमेर

1. चित्र में कुल कितने चूहे हैं?



1 ☐ 5

2 ☐ 6

3 ☐ 3

4 ☐ 4

2. चित्र में कुल कितनी माचिस की तीलियाँ हैं?



1 ☐ 6

2 ☐ 9

3 ☐ 8

4 ☐ 7

3. चित्र में कुल कितने गुब्बारे हैं?



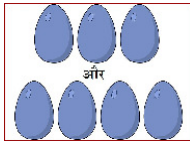
1 ☐ 3

2 ☐ 4

3 ☐ 5

4 ☐ 6

4. चित्र में कितने अंडे हैं?



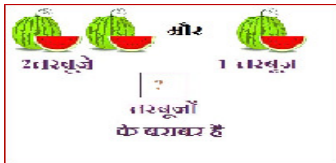
1 ☐ 4

2 ☐ 7

3 ☐ 6

4 ☐ 8

5. दिए गए चित्र में "?" का मान ज्ञात कीजिए?



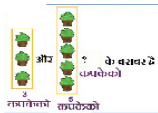
1 ☐ 2

2 ☐ 4

3 ☐ 1

4 ☐ 3

6. दिए गए चित्र में "?" का मान ज्ञात कीजिए?



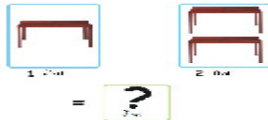
1 ☐ 8

2 ☐ 3

3 ☐ 7

4 ☐ 6

7. दिए गए चित्र में "?" का मान ज्ञात कीजिए?



1 ☐ 2

2 ☐ 4

3 ☐ 3

4 ☐ 5

8. दिए गए चित्र में "?" का मान ज्ञात कीजिए?



1 ☐ 9

2 ☐ 10

3 ☐ 6

4 ☐ 8

OFFICE OF.....

WEEKLY QUIZ - 40

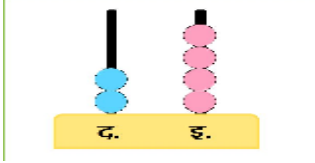
CLASS -3

SUBJECT - MATH

DATE :- 03.07.2021

सौजन्य से :- राजकीय उच्च प्राथमिक विद्यालय, बीरवाड़ा, ब्लॉक केकड़ी जिला अजमेर

1 दिए गए अबेकस द्वारा कौन सी संख्या दर्शाई गई है?



1 ☐ 42

2 ☐ 24

3 ☐ 6

4 ☐ 26

2 संख्या 35 का संख्या नाम क्या है?

1 ☐ पैंतीस

2 ☐ तीस

3 ☐ तिरपन

4 ☐ चौंतीस

3 निम्न में से कौन सा विकल्प 28 के बराबर है?


1 ☐ 28 इकाइयाँ

2 ☐ 28 दहाइयाँ

3 ☐ 2 दहाइयाँ

4 ☐ 2 दहाइयाँ 8 दहाइयाँ

4 दिये गए चित्र में कुल कितने मेंढक हैं?



1 ☐ 30

2 ☐ 40

3 ☐ 24

4 ☐ 32

5 दिए गए चित्र में कितनी दहाइयाँ हैं?



13 टाफियाँ

1 ☐ 1

2 ☐ 10

3 ☐ 13

4 ☐ 3

6 खाली स्थान भरिए: 10 इकाइयाँ ____ के बराबर है।

1 ☐ 10 दहाइयाँ

2 ☐ 1 दहाई

7 नमन ने 18 नीली गेंदें खरीदीं। अब वह 10 गेंदों का केवल 1 समूह बना सकता है। हाँ या नहीं?




18

1 ☐ नहीं

2 ☐ हाँ

8 चित्र में दी गई कृतियों की संख्या को कौन-सा विकल्प दर्शाता है?



1 ☐ 14 दहाइयाँ

2 ☐ 2 दहाइयाँ और 6 इकाइयाँ

3 ☐ 1 इकाई और 4 दहाइयाँ

4 ☐ 1 दहाई और 4 इकाइयाँ

OFFICE OF.....

WEEKLY QUIZ - 40

CLASS -3

SUBJECT - ENGLISH

DATE :- 03.07.2021

सौजन्य से :- राजकीय उच्च प्राथमिक विद्यालय, बीरवाड़ा, ब्लॉक केकड़ी जिला अजमेर

1. This is a picture of ____.



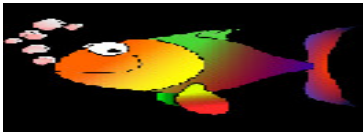
1 ☐ a banana

2 ☐ a papaya

3 ☐ an apple

4 ☐ a potato

2. A ____ lives under water.



1 ☐ camel

2 ☐ fish

3 ☐ parrot

3. Where do birds live?



1 ☐ In a nest

2 ☐ Under water

3 ☐ In a car

4. The ____ is yellow in colour.



1 ☐ ball

2 ☐ sun

3 ☐ moon

5. Seema will cut ____ on her birthday.



1 ☐ a gift

2 ☐ an apple

3 ☐ a dress

4 ☐ a cake

6. This is a picture of ____.



1 ☐ a pen

2 ☐ a pencil

3 ☐ a nib

4 ☐ a brush

7. Name the colour.



1 ☐ Red

2 ☐ Blue

3 ☐ Green

4 ☐ Yellow

8. Name this shape.



1 ☐ Circle

2 ☐ Star

3 ☐ Square

4 ☐ Triangle